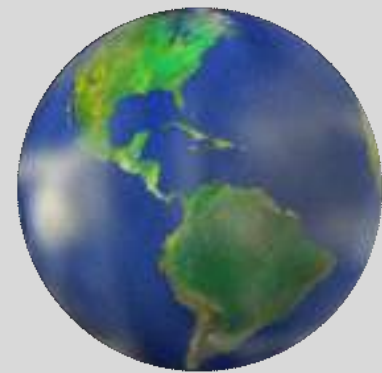




Geografía 8°



¡Bienvenidos!



Estás en sintonía con la clase de
Geografía de 8°

CARACTERÍSTICAS FÍSICAS GENERALES DE AMÉRICA



Recordemos los cuidados de higiene:



LAVATE LAS MANOS DURANTE 20 SEGUNDOS:

- DESPUÉS DE TOSER O ESTORNUDAR
- AL CUIDAR A PERSONAS ENFERMAS
- ANTES, DURANTE Y DESPUÉS DE PREPARAR ALIMENTOS
- ANTES DE COMER
- DESPUÉS DE USAR EL BAÑO
- DESPUÉS DE MANIPULAR CUALQUIER TIPO DE RESIDUOS

“

Materiales a utilizar

★ Cuaderno

★ Bolígrafo

★ Lápiz



¡Ponte cómodo!

Es hora de prestar mucha atención para disfrutar de este espacio, que está elaborado para ti.



Objetivo de la clase:

Seremos capaces de identificar las principales características físicas del continente americano como parte del conocimiento de nuestro territorio.



Observa la siguiente imagen y describe lo que ves.



De seguro
respondiste:

- Montaña
- Árboles
- Lago
- Flores
- Cielo celeste

¡Muy bien!





Relieve

Partes que sobresalen en una superficie plana

Litoral

Lugar que actúa como frontera entre la tierra y el mar.

Hidrografía

Conjunto de los mares, los ríos, los lagos y otras corrientes de agua de una zona

Clima

Condiciones atmosféricas propias de un lugar.

Vegetación

Conjunto de plantas propias de un lugar.



¡Mantén tu cuaderno abierto!

Porque vas a conocer más sobre América.

Preparado...



¡Da click sobre el
ícono para ver un
vídeo!




Relieve y Geografía de América

1



Sierras

2



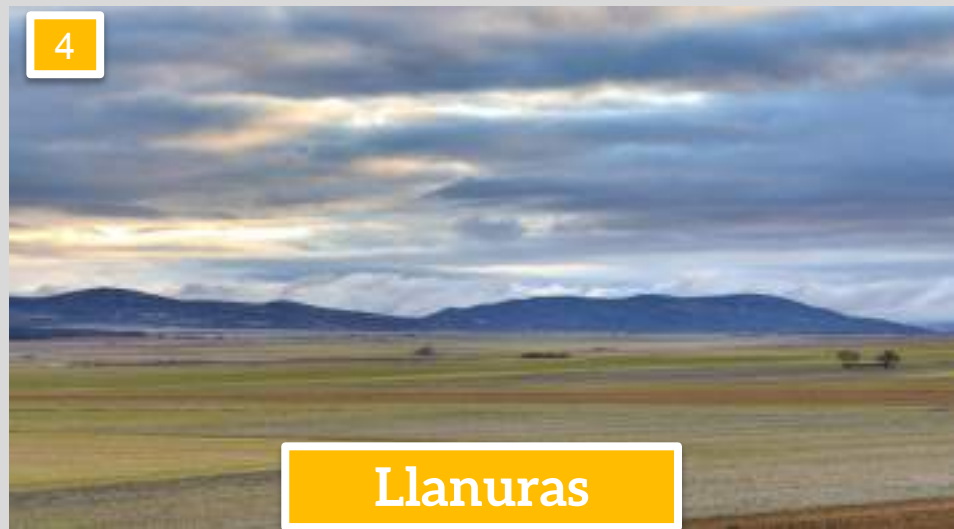
Mesetas

3



Cordilleras

4




Llanuras


CIERTO Y FALSO



1. El Amazonas es el río más largo y caudaloso del mundo.




2. El río Misisipi está ubicado en Brasil.



CIERTO Y FALSO



1. El Amazonas es el río más largo y caudaloso del mundo.




El río Amazonas posee una quinta parte del agua dulce del planeta.

2. El río Misisipi está ubicado en Brasil.




¡No! Se encuentra en los Estados Unidos y desemboca en el Golfo de México.


3. El Lago Superior forma parte de los grandes lagos.



4. El Titicaca es el lago más alto del mundo.




3. El Lago Superior forma parte de los grandes lagos.



El Lago Superior es el lago de agua dulce más grande del mundo.



4. El Titicaca es el lago más alto del mundo.



Sí, incluso dentro del él existen islas flotantes fabricadas por los Uros.

Litorales de América





Accidentes costeros

Relieve terrestre que se encuentra en la zona costera.



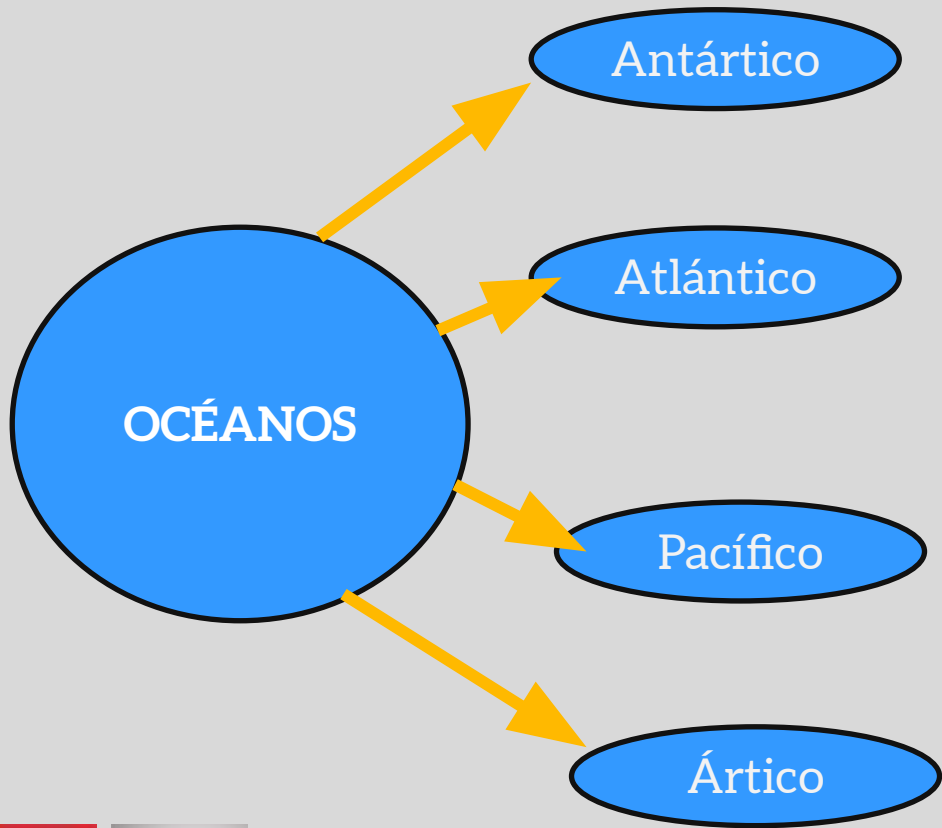
Plataforma continental


Superficie situada bajo el mar y ubicada cerca de la costa.



Mar Territorial

Es el sector del océano en el que un Estado ejerce plena soberanía.





Mares

- Beaufort
- Labrador
- Bering
- Caribe

Golfo

- Alaska
- San Lorenzo
- México

Bahía

- Hudson
- Baffin
- Panamá



Estrechos

- Estrecho de Bering
- Estrecho de Magallanes
- Estrecho de Drake

Islas

Groenlandia, Baffin, Victoria, Terranova, Galápagos, Malvinas y Tierra de Fuego.

Penínsulas

Labrador, Nueva Escocia, Florida, California y Yucatán.



Ambiente Templado



¡Da click sobre el
ícono para ver un
vídeo!



Climas de América

Cálido



Templado



Desértico



Frío



AMÉRICA Climas





A. Ubica en el mapa el clima que predomina en nuestro país

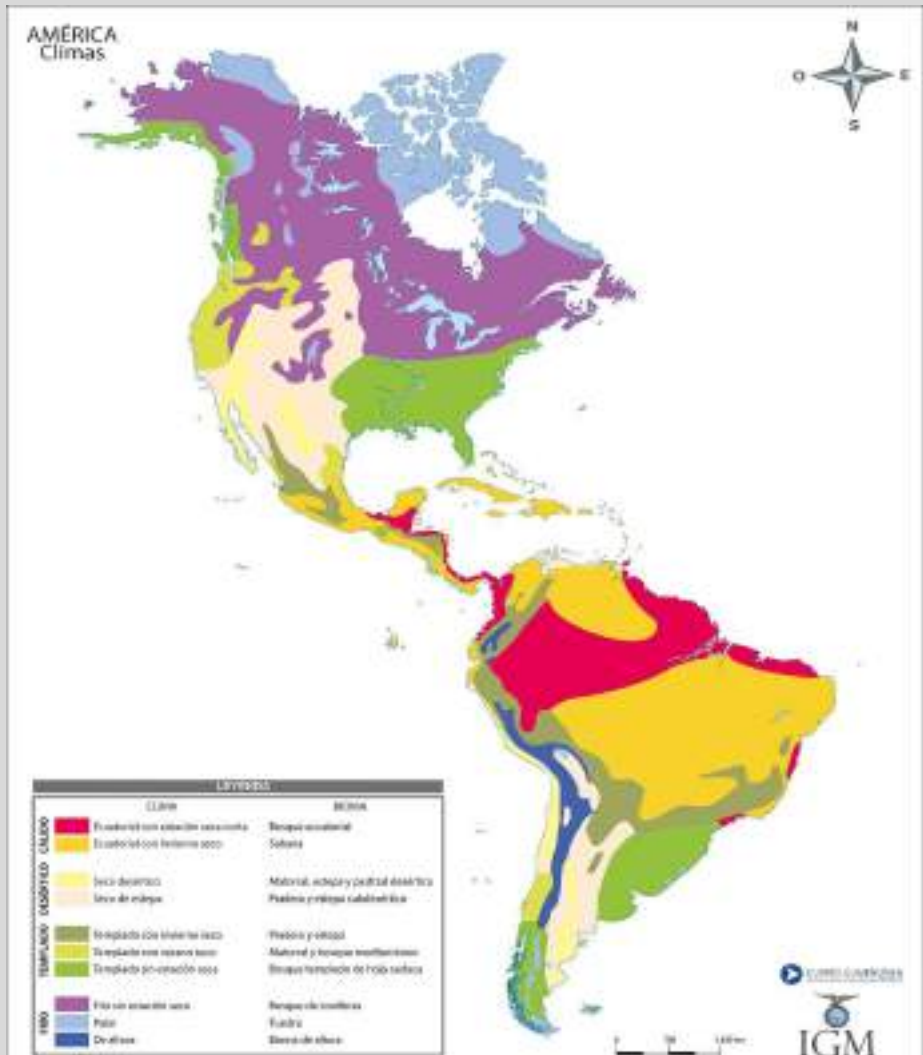




A. Ubica en el mapa el clima que predomina en nuestro país

Respuesta:

Clima Cálido



VEGETACIÓN DE AMÉRICA

Ambiente Cálido



Sábana



Bosque ecuatorial

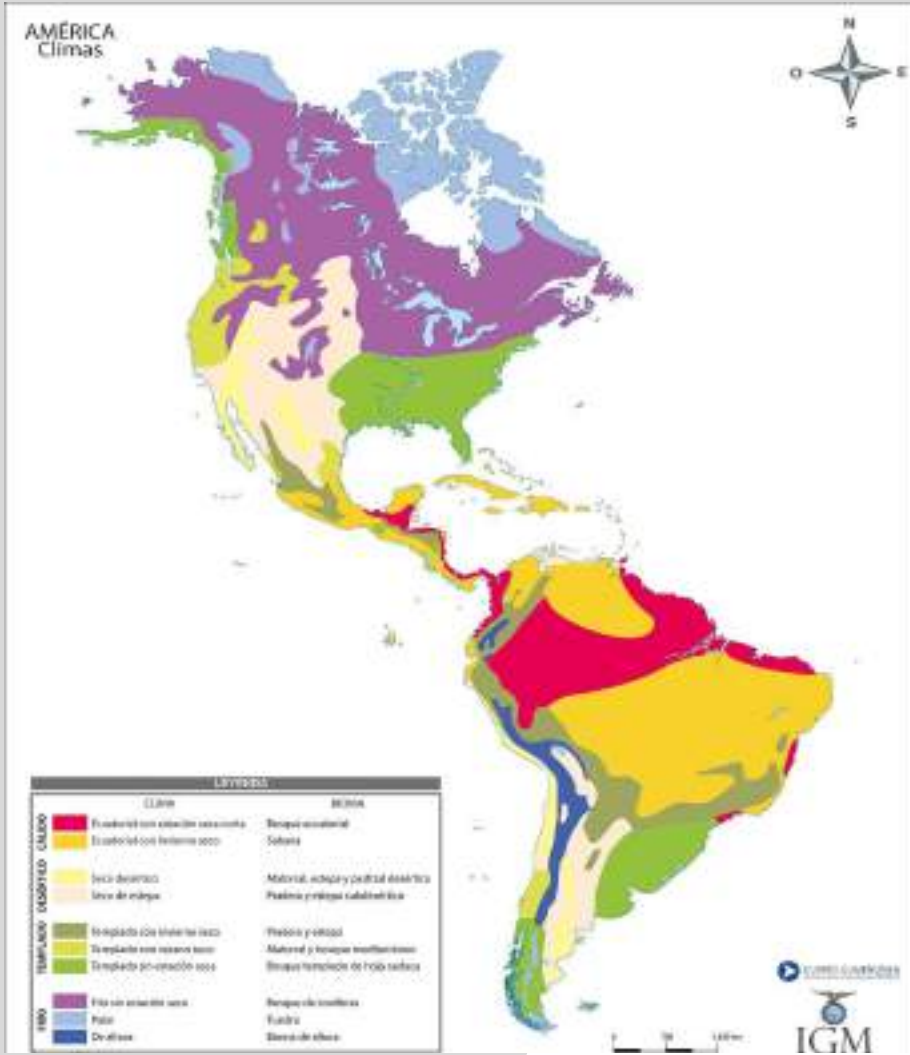
Ambiente Desértico



Pastizal



Estepa



Ambiente Templado



Bosques mediterráneos



Bosques templados

Ambiente Frío



Bosques de coníferas



Tundras

AMÉRICA Climas





¡Sé que eres capaz!

A. Dibuja el continente de América, haciendo uso de tu creatividad.

Envía una foto a la red social de [@estrellaensena](https://www.instagram.com/estrellaensena) del mapa terminado.

B. Responde las siguientes preguntas en tu cuaderno.
¡No olvides compartírnos las respuestas en nuestras redes sociales!

1. **¿Cuál es el clima de tu región?**
2. **¿Qué ríos y montañas tienes en tu entorno?**
3. **¿Cómo le afecta el clima en sus actividades diarias?**
4. **¿Cuál es la relación entre el clima de tu región y los alimentos que consumen en casa?**



¡Gracias!

¿Alguna pregunta?

Encuétranos en Instagram o
Facebook como

[@estrellaensena](#)

